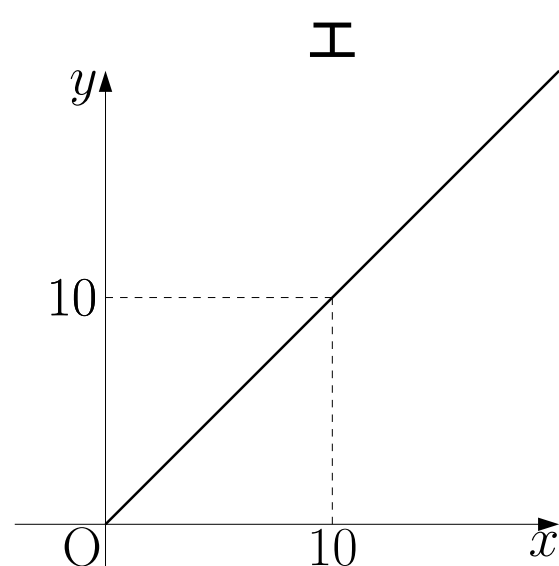
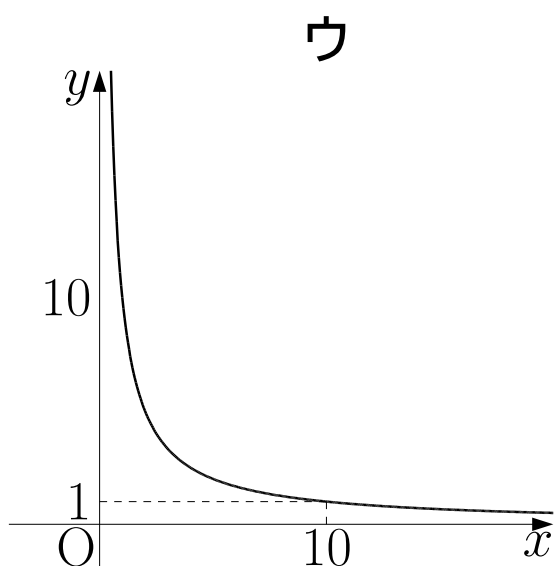
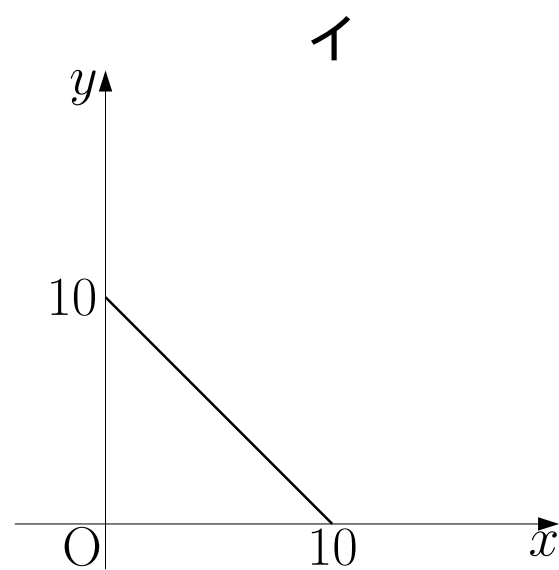
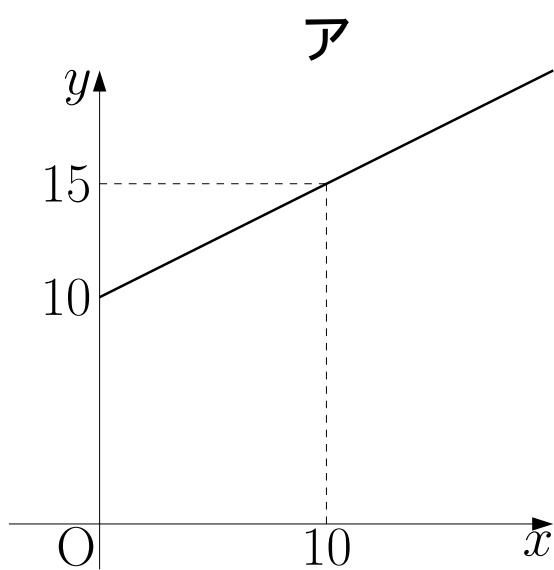


## 比例・反比例 グラフと式

次の(1)、(2)について、それぞれ $y$ を $x$ の式で表しなさい。また、そのグラフを、下のア～エの中からそれぞれ1つ選び、記号で答えなさい。

(1) 10kmの道のりを、時速 $x$ kmで進むと $y$ 時間かかる。

(2)  $x\%$ の食塩水 100g には $y$ gの食塩が含まれている。



(沖縄)

# 比例・反比例 グラフと式 解答

(1)  $y = \frac{10}{x}$  ウ

(2)  $y = x$  エ

## ●ポイントの確認

ヒロ：式からグラフのイメージができるようにしておこう。